


Je consolide mes connaissances

1 Entoure la phrase qui est vraie.

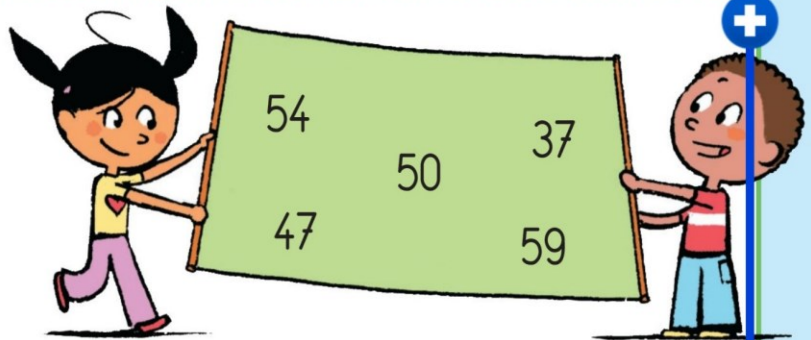
- Zoé a plus d'euros qu'Arthur.
- Zoé a moins d'euros qu'Arthur.
- Zoé a autant d'euros qu'Arthur.



2 Complète avec < ou >.



30 19	50 10	38 50	20 50
54 48	41 50	30 3	24 42

3 Écris les nombres de la banderole dans les cases vides.
Ils doivent être rangés du plus petit au plus grand.



32	44	53	56
----	-------	----	-------	-------	----	-------	----	-------

4 Les sacs contiennent des balles. Le nombre de balles est inscrit sur les sacs.
Entoure les sacs que tu dois choisir pour obtenir le bon nombre de balles.



5 Colorie :

- 2 cases en jaune pour obtenir un total de 60 ;
- 3 cases en rouge pour obtenir un total de 70 ;
- 4 cases en bleu pour obtenir un total de 90.

10	20	30	40	50	60
10	20	30	40	50	60
10	20	30	40	50	60
10	20	30	40	50	60